

REPET CE AM ÎNVĂȚAT

1. Citește numerele următoare:

9 590

7 889

3 518

9 100

- a) transcrie-le pe acelea care au cifra unităților de mii 9.
b) scrie numerele date în ordine crescătoare.

- c) compară numerele.
d) rotunjește numerele la sute, apoi la unități de mii.

2. Numără din 2 în 2:

- a) de la 998 până la 1 020.
b) de la 4 980 până la 4 972.

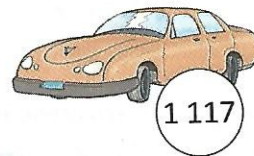
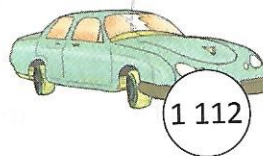
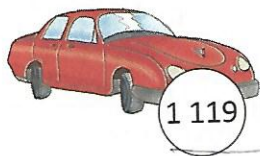
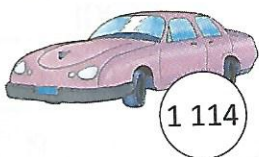
3. Scrie numărul format numai din:

- a) sute, cel mai apropiat de 196.
b) mii, cel mai apropiat de 6 878.

4. Descoperă:

- a) cel mai mare, apoi cel mai mic număr scris cu patru cifre care are cifra sutelor 7 și cifra unităților 0.
b) cel mai mare, apoi cel mai mic număr din 4 cifre consecutive.

5. Participă la concurs doar mașinile al căror număr este mai aproape de 1 120 decât de 1 110. Care sunt acelea?



6. Compară numerele date folosind unul din semnele: <, >, =.

a) XX XIX

b) VIII IX

c) V X

d) XXVI XXIV

POT MAI MULT

- Câte cifre diferite folosești pentru a scrie numerele până la 100?
a) 9; b) 100; c) 90; d) 10.
- Diana a scris toate numerele cuprinse între 1 124 și 1195. Câte numere a scris Diana?
a) 69; b) 70; c) 71; d) 68.
- Alege propozițiile adevărate: Succesorul numărului 998...
a) este un număr cu suma cifrelor 27;
b) are cifrele sutelor, zecilor și unităților egale;
c) este un număr par.

ACTIVITATE ÎN ECHIPĂ

- a) Descoperă numerele pare, apoi ordonează-le crescător.
b) Ce cuvânt ai obținut?

W	S	L	O	V	X
35	39	999	96	777	684
T	Q	A	B	C	D
24	333	1000	1003	155	63
E	F	G	H	A	I
141	101	707	3001	124	205
J	K	R	P	X	
111	302	907	411	881	433