

REPET CE AM ÎNVĂȚAT

1. Efectuează exercițiile:

a) $2\ 132 + 3\ 456$
 $1\ 918 + 4\ 675$

b) $9\ 764 - 3\ 429$
 $5\ 192 - 2\ 876$

c) $117 + 4\ 808 - 2\ 164$
 $7\ 502 - 3\ 183 + 1\ 019$

2. Calculează, apoi verifică folosind calculatorul.

a) $8\ 724 +$
 $1\ 307$
?

$9\ 689 -$
 $5\ 635$
?

b) $3\ 625 +$
 $4\ 520$
?

$5\ 192 -$
 $2\ 980$
?

3. La suma numerelor 1 908 și 2 999 adaugă diferența numerelor 5 000 și 3 846.

4. Din diferența numerelor 8 000 și 4 909 scade suma numerelor 1 705 și 1 998.

5. Află numerele necunoscute din tabelele următoare.

Termen	809	?	2 300
Termen	1 007	399	?
Suma	?	4 000	6 200

Descăzut	5 400	?	7 350
Scăzător	2 756	1 500	?
Diferența	?	3 000	3 642

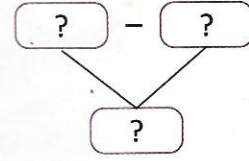
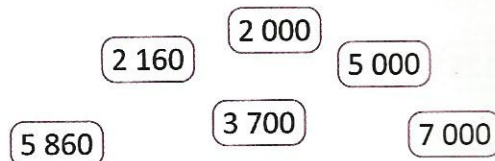
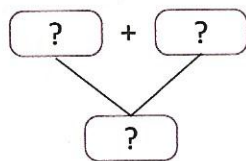
6. Estimează rezultatele prin rotunjire la unități de mii, apoi calculează.

a) $5\ 946 - 3\ 981$

b) $9\ 258 - 3\ 945$

c) $7\ 350 - 2\ 999$

7. Creează exerciții folosind numerele potrivite pentru schemele date.



8. În urma recensământului populației din localitatea Victoria s-au obținut următoarele rezultate:

Bărbați	Copii	Femei
3 185	cu 1 280 mai mulți decât femeii	cu 175 mai multe decât bărbați

• Câte persoane locuiesc în localitatea Victoria?

9. Ce numere se ascund sub fiecare figură? Câte puncte voi câștiga?

-	26	35	19
84	58	Ș	T
63	I	28	U
51	Ă	S	32

Lucrăm în echipă să descoperim mesajul!



+	27	18	36
39	Z	R	75
18	V	36	O
45	72	E	L

• Scrie literele în ordinea sugerată de figuri pentru a descoperi mesajul.

