

5 Natura și fenomenele naturale

■ Scăderea numerelor naturale de la 100 la 1 000, cu împrumut la ordinul zecilor

Inundațiile,
grindina

1 Calculează:

$$\begin{array}{r} 573 - \\ 9 \end{array}$$

$$\begin{array}{r} 824 - \\ 8 \end{array}$$

$$\begin{array}{r} 733 - \\ 6 \end{array}$$

$$\begin{array}{r} 573 - \\ 7 \end{array}$$

$$\begin{array}{r} 864 - \\ 19 \end{array}$$

$$\begin{array}{r} 593 - \\ 27 \end{array}$$

$$\begin{array}{r} 684 - \\ 59 \end{array}$$

$$\begin{array}{r} 493 - \\ 64 \end{array}$$

$$\begin{array}{r} 875 - \\ 26 \end{array}$$

$$\begin{array}{r} 374 - \\ 159 \end{array}$$

$$\begin{array}{r} 826 - \\ 519 \end{array}$$

$$\begin{array}{r} 745 - \\ 29 \end{array}$$




2 Rezolvă exercițiile, apoi fă proba prin operație inversă:

$239 + 433 = \square\square\square$

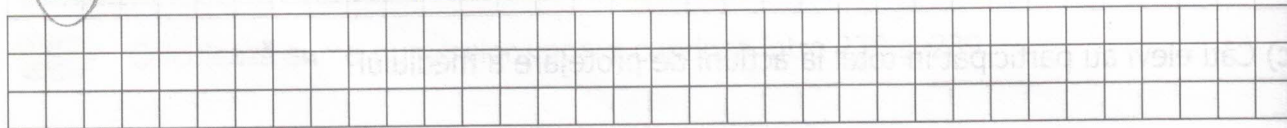
$258 + 218 = \square\square\square$

$415 - 208 = \square\square\square$


$948 - 329 = \square\square\square$




3 Află $a - b - c$, dacă $a = 774$, $b = 125$ și $c = b - 19$.



4 Dacă $a = 446$, iar $b = a - 207$, cât este $a + b$?



5 Ce număr trebuie adăugat la diferența numerelor 875 și 352 pentru a obține 590?



6 Din ce număr trebuie scăzută diferența numerelor 364 și 148 pentru a obține numărul 99?

